

సంగ్రహణాత్మక మదింపు - III (SA- III) (2014 - 2015)

1వ తరగతి - తెలుగు

విద్యార్థి పేరు : _____

సమయం : గం. 2-30 ని.

రోలు నెం : _____

మార్కులు : 50

విద్యా ప్రమాణం	వినడం మరియు మాట్లాడటం	చదవడం	రాయడం	సృజనాత్మకత	మెత్తం
ప్రశ్నల సంఖ్య		I (10)	II (20)	--	30
కేటాయించిన మార్కులు	10 మౌఖికం	5 మౌఖికం 10 మా	20 మా	5 మౌఖికం	50
పొందిన మార్కులు					
గ్రేడు					

మౌఖిక పరీక్ష (20 మా)

అ) వినడం మాట్లాడటం

(10 మా)

1. " కోతి బావ " గేయాన్ని రాగంతో అభినయించి పాడండి
2. మీకు తెలిసిన పిండివంటల పేర్లు చెప్పండి. మీకు ఇష్టమైన పిండి వంటకం ఏది ?

ఆ) చదవడం

(5 మా)

1. కలం — కాలం
2. గెల — గేదె
3. కైక — కౌలు
4. గుడి — గూడు
5. గిలక — గీత

ఆ) సృజనాత్మకత

(5 మా)

ఇల్లు చిత్రాన్ని చూపించి మాట్లాడించడం

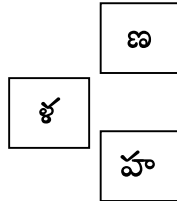
రాత పరీక్ష (30 మా)

I చదవడం (10 మా)

1. క్రింది పదాలు చదవండి. గడిలో ఉన్న అక్షరాన్ని పదాలలో గుర్తించి సున్న చుట్టండి


(5 మా)

1. అరుణ, జమున, కరుణ, రమ
2. వనం, తబల, సరళ, తాళం
3. మనం, హలం, రజని, ఊహ



II. జత పరచండి

(5 మా)



తాళం

పులి

శంఖం

కోడి

ఒంటె

II రాయడం (20 మా)

అ) గళ్ళలోని అక్షరాలతో పదాలు రాయండి

(5 మా)

ఇ	రు	సు	వ
ము	టు	ను	ల
త	ర	క	డు

1.._____

4.._____

2.._____

5.._____

3.._____

ఆ). క్రింది పదాలను సరిచేసి రాయండి

(5 మా)

i. రకాక _____

ii. కిలుసై _____

ii. నుగుప _____

iv. లిమనె _____

v. యలడి _____

ఇ) క్రింది బొమ్మలను చూసి వాక్యాలలోని ఖాళీలలో సరి అయిన పదాలు రాయండి

(5 మా)

1)  పడుకుంది.

2) ఇది గౌరి



ఇది గౌరి _____

3) ఈ  ఎగురుతుంది

ఈ _____ ఎగురుతుంది

4)  కాయలు తింటుంది

_____ కాయలు తింటుంది

5) నీటిలో  ఉంది

నీటిలో _____ ఉంది

ఈ). కింది అక్షరాలకు " ✓ ", " ౩ " " ౪ " ఉంచి రాయండి.

(5 మా)

✓	క	గ	చ	జ	ట	డ	త	ద	న	ప
౩	క									
౪	క									

**M.P.P. PRIMARY SCHOOL - BODDUVARIPALEM, KODAVALUR,
SPSR NELLORE DT.**

Summative Assessment - III (SA-III) - 2014 - 2015

ENGLISH - 1st Class

NAME : _____

MARKS : 50

S.No	Listening and Speaking	Reading Comprehension	Vocabulary	Conventions of writing	Creative expression

LISTENING AND SPEAKING

(10 M)

I. Sing the rhyme with action and answer the following









**Ding dong bell,
Pussy's in the well,
Who put her in,
Little Jhonny thin,
Who pulled her out,
Little Tommy stout**


READING COMPREHENSION

(10 M)

II. Read the pictures and write their names.



III. Tick the correct one (5 M)



Frog	Fish
------	------

Tree	Bird
------	------

IV. Write small letters (5 M)



SLATE	
-------	--

SUN	
-----	--

CONVENTIONS OF WRITING

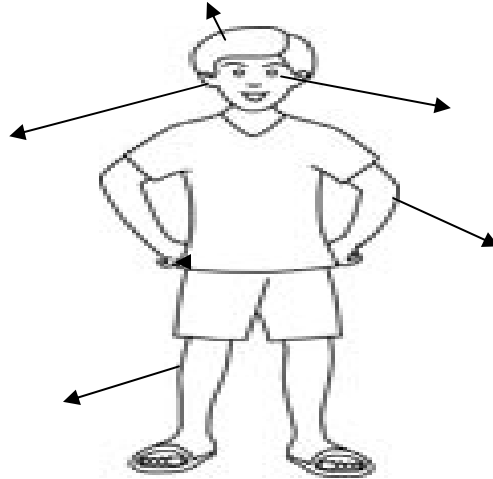
(5 M)

The fish is on the table

VOCABULARY

(5 M)

Write the names



CREATIVE EXPRESSION

(10 M)

1. A tomato is _____ (in colour)
2. A leaf is _____ (in colour)
3. The sky is _____ (in colour)
4. The milk is _____ (in colour)
5. A lemon is _____ (in colour)

Draw the picture of a " cat "



సంగ్రహణాత్మక మదింపు - III (SA- III) (2014 - 2015)

1వ తరగతి - గణితము

విద్యార్థి పేరు : _____
 రోలు నెం : _____

సమయం : గం. 2-30 ని.
 మార్కులు : 50

విద్యా ప్రమాణాలు	సమస్య సాధన	కారణాలు చెప్పడం, నిరూపణలు చేయడం	వ్యక్త పరచడం	అనుసంధానం	ప్రాతినిధ్య పరచడం	మొత్తం
కేటాయించిన మార్కులు	5+20 =25	5	5	5	10	50
సాధించిన మార్కులు						
గ్రేడ్						

సమస్య సాధన (మౌఖికం)

(5మా)

అ) రవి దగ్గర 5 వూసలు ఉన్నవి. లత దగ్గర 4 వూసలు ఉన్నవి. ఇద్దరి వద్ద ఉన్న వూసలు ఎన్ని ?

ఆ) 9 - 6 విలువ ఎంత ?

ఇ) రాణి దగ్గర 10 రూపాయలు ఉన్నవి. 5 రూపాయలతో పెన్ను కొన్నది. రాణి దగ్గర మిగిలిన రూపాయలు ఎన్ని ?

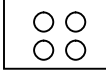

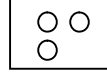

ఈ) " 12 " తర్వాత వచ్చు సంఖ్య ఏది ?

ఉ) 8 + 12 విలువ ఎంత ?

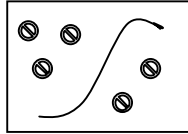


సమస్య సాధన (రాత పరీక్ష)

(20మా)

1) క్రింది బొమ్మల ద్వారా ఖాళీ గడులను పూరించండి

అ)  +  +  = 
 _____ + _____ + _____ = _____

(2 మా)

ఆ)  -  = 
 _____ - _____ = _____

(3 మా)

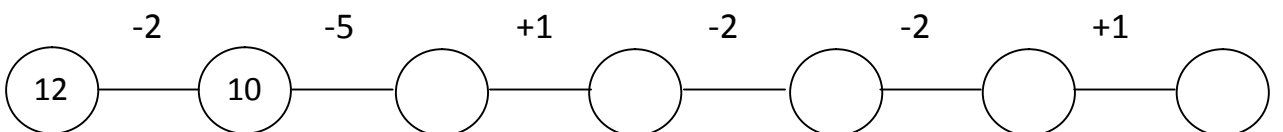
2) కింది లెక్కలను చేయండి

(5 మా)

$$\begin{array}{r} 13 \\ + 5 \\ \hline \end{array} \qquad \begin{array}{r} 8 \\ - 4 \\ \hline \end{array}$$

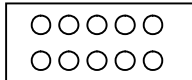
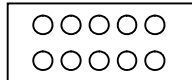
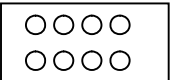



3) ఖాళీలలో సరైన సంఖ్యలు రాయండి

(5మా)



4) సరైన సంఖ్యకు సున్న ' 0 ' చుట్టండి

(5మా)

     
 _____ పదులు _____ ఒకట్లు
 _____ 18 38 28

క్రింది అమరికను పరిశీలించి తరువాత వచ్చే ఆకారాలను చెప్పండి

అ) ▲ ● ▲ ● ▲ _____

ఆ) ● ■ ● ■ ● _____

వ్యక్త పరచడం

అ) 87 లో ఎన్ని పదులు ఉంటాయి ?

ఆ) పదహారు సంఖ్యను అంకెలలో రాయండి

ఇ)

౭5		౭7
----	--	----

 మధ్య సంఖ్యను రాయండి

ఈ) '8' అంకెను అక్షరాలలో రాయండి

ఉ) కింది సంఖ్యలలో చిన్న సంఖ్యకు ' ○ ' చుట్టండి

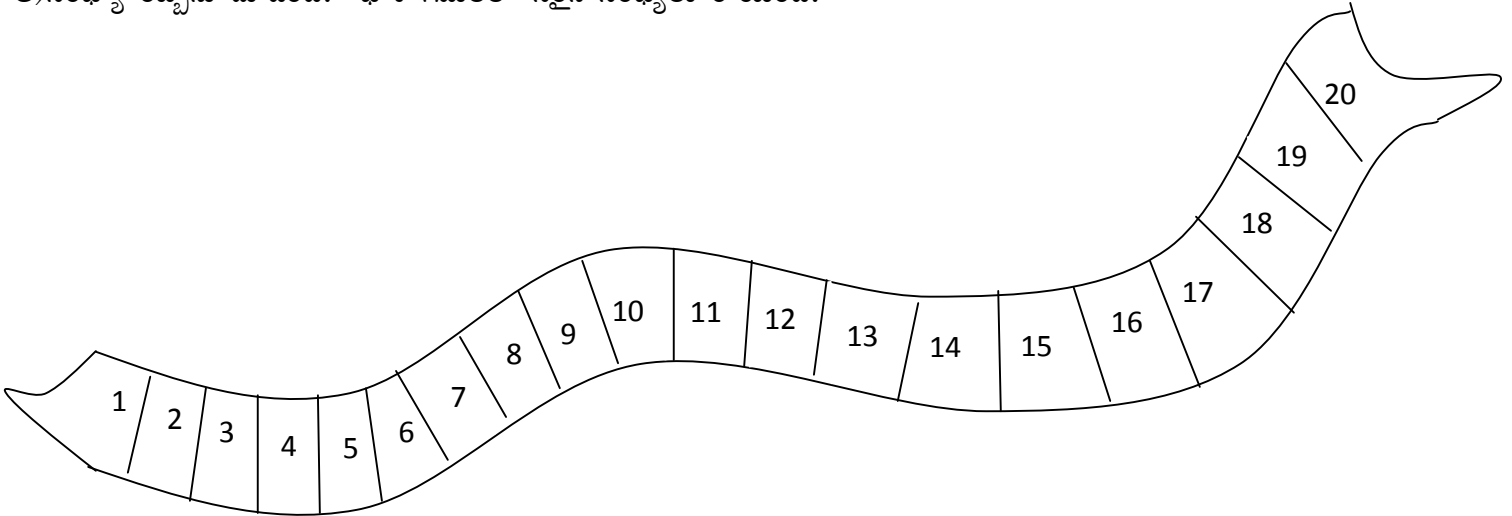
అనుసంధానం

కావ్య దగ్గర 8 పండ్లు ఉన్నాయి. వాళ్ళ తమ్ముడు దగ్గర 2 పండ్లు ఉన్నాయి. వారిద్దరి వద్ద ఉన్న పండ్ల నుండి స్నేహితునికి 4 పండ్లు ఇచ్చిన ఇప్పుడు వారి దగ్గర ఉన్న పండ్లు ఎన్ని ?

ప్రాతినిధ్య పరచడం

అ) 1వ తరగతి గణితంలోని 128 పేజీలోని బొమ్మలను చూపి ప్రశ్నలను అడగండి

ఆ) సంఖ్యా రిబ్బను చూడండి. ఖాళీ గడులలో సరైన సంఖ్యలు రాయండి.



10		12			15		17
----	--	----	--	--	----	--	----